

2. Sachkompetenz

a) Ich kann erklären, was ein Grundbedürfnis eines Menschen ist. (S. 58/59)

1 Erkläre, was ein Grundbedürfnis ist und nenne mindestens zwei Grundbedürfnisse eines Menschen. (___/4 P.)

b) Ich kann einzelne Bedürfnisse den Bedürfnisarten (Grund-, Wohlstands-, Luxus-, Einzel-, Gemeinschaftsbedürfnis) zuordnen. (S. 58–61)

2 Ordne die Bedürfnisse den Bedürfnisarten zu. (___/5 P.)

Grundbedürfnis	Besuch einer Theateraufführung
Wohlstandsbedürfnis	Nahrung
Luxusbedürfnis	Schlaf
Einzelbedürfnis	Gute Ausbildung
Gemeinschaftsbedürfnis	Sicherheit
	Privatflugzeug
	Freundschaft/Liebe
	Besitz eines Handys
	Besitz einer eigenen Insel
	saubere Luft zum Atmen

c) Ich kann zwei Merkmale eines Marktes nennen. (S. 66/67)

3 Nenne zwei Merkmale eines Marktes. (___/2 P.)




Name: _____

Klasse: _____

Datum: _____

d) Ich kann anhand eines Beispiels den Zusammenhang von Angebot, Nachfrage und Preis beschreiben. (S. 66/67)

4 Beschreibe die drei Situationen mit Hilfe der Begriffe „Angebot“, „Nachfrage“, „Preis“, wenn jeder Kunde eine Hose kaufen möchte (Buch, S. 66/67) und ordne das richtige Preisschild zu. (/9 P.)

1 Jeans: 100,- € A	Jede Jeans: 50,- € B	Angebot !!! Jede Jeans 20,- € C
		1
		2
		3

e) Ich kann am Beispiel eines Produktes die Prozesse Beschaffung, Produktion und Absatz erklären. (S. 70/71)

5 Erkläre am Beispiel eines Produktes die Prozesse Beschaffung, Produktion und Absatz. (/6 P.)

Beschaffung:

Produktion:

Absatz:

Name:

Klasse:

Datum:

f) Ich kann die drei Produktionsfaktoren und jeweils zwei Beispiele dafür nennen. (S. 70/71)

6 Nenne die drei Produktionsfaktoren und jeweils zwei Beispiele.

(_/6 P.)

g) Ich kann drei Formen der Arbeitsteilung nennen. (S. 72/73)

7 Nenne drei Formen der Arbeitsteilung.

(_/3 P.)

3. Methodenkompetenz

a) Ich kann einfache Informationen aus einer Befragung in einem Diagramm darstellen. (S. 68/69)

8 Erstelle zu den Werten aus der Befragung ein Diagramm.

(_/12 P.)

Befragung:
Welche Produkte kaufen Sie hauptsächlich auf dem Markt?

Produkt	Anzahl der Personen
Obst	22
Gemüse	30
Blumen	8
Fisch	1
Eier	3
Käse	7
Fleisch und Wurst	6
Brot	5
Sonstiges	10

Name: _____

Klasse: _____

Datum: _____