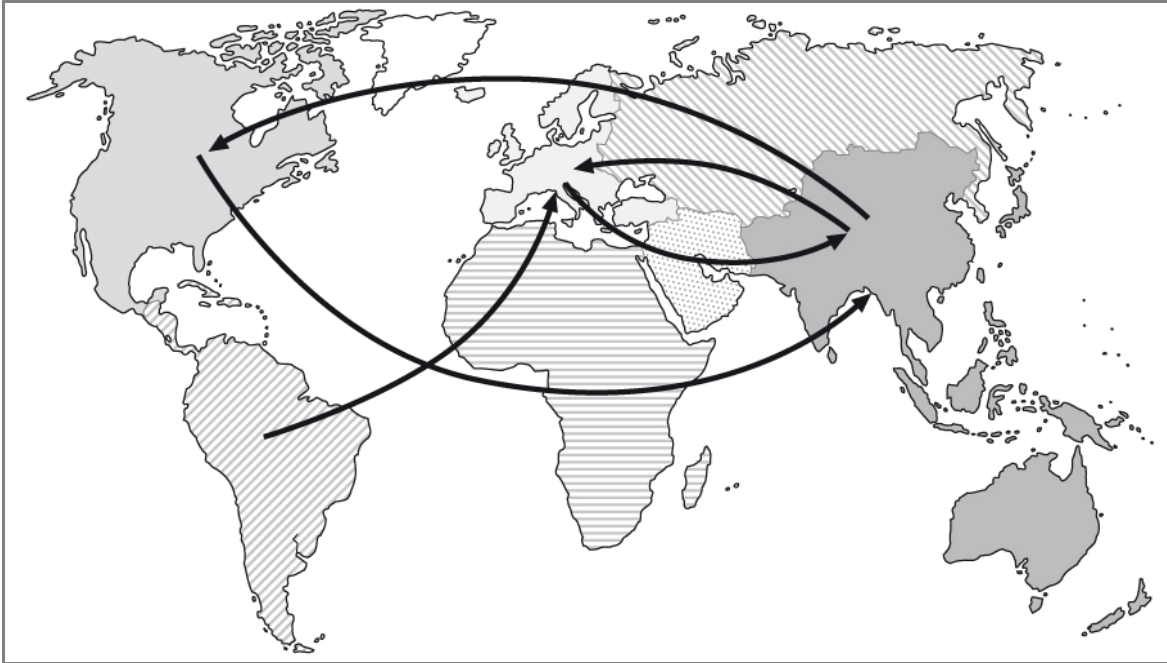


1. Orientierungskompetenz

b) Ich kann mithilfe einer Karte den Handelsregionen wichtige Agrarhandelsströme zuordnen.

(_/4 P.)

1 Trage mit Pfeilen in die Karte ein: 4 der größten Agrarhandelsströme zwischen den Handelsregionen.



c) Ich kann mindestens zwei Länder nennen, in denen eine bedeutende Produktion von Paprika, Zuckerrohr, Zuckerrüben und Baumwolle zu finden ist.

(_/4 P.)
8 x 0,5P

2 Markiere je zwei Staaten mit bedeutendem Anbau der Produkte und vervollständige die Legende entsprechend.

a) Paprika

b) Zuckerrohr

c) Zuckerrüben

d) Baumwolle.



Staaten mit Anbau von



Paprika



Zuckerrüben



Zuckerrohr



Baumwolle

Name:

Klasse:

Datum:

2. Sachkompetenz

c) Ich kann wichtige Aspekte der EU-Agrarreformen nennen und erklären warum sie in der EU, aber auch international gefordert wurden.

3 Maßnahmen im Zuge der Agrarreformen seit 1992. Kreuze an.
Im Zuge der Agrarreform wurden...

(/ 3 P.)
6 x 0,5P

Direktzahlungen an die Betriebe eingeführt

Direktzahlungen an Betriebe abgeschafft

Subventionen von der Produktion entkoppelt

die Garantiepreise erhöht

Auszahlung von Subventionen an Produktionsstandards geknüpft

Maßnahmen zum Schutz vor Importen ergriffen

e) Ich kann erklären, warum die durchschnittliche Größe landwirtschaftlicher Betriebe in der EU ständig steigt.

4 Beurteile Aussagen zur Landwirtschaftsentwicklung in der EU.

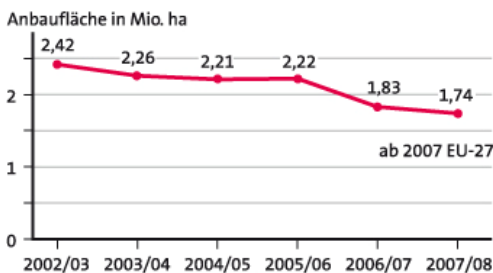
(/ 2,5 P.)
5 x 0,5P

		Richtig	Falsch
a	Die durchschnittliche Größe landwirtschaftlicher Betriebe ist gesunken, da die Landwirte angesichts erschwerter Bedingungen ihre Betriebe verkleinern.		x
b	Die durchschnittliche Größe landwirtschaftlicher Betriebe in der EU ist gestiegen, da die gesamte Landwirtschaftliche Nutzfläche in der EU vergrößert wurde.		x
c	Die durchschnittliche Größe landwirtschaftlicher Betriebe in der EU ist gestiegen, da so bei hohen Betriebskosten und geringen Verkaufspreisen ein guter Gewinn erzielt werden kann.	x	
d	Die Anbauflächen des ökologischen Landbaus sind gestiegen, da höhere Verkaufspreise von Bioprodukten den wirtschaftlichen Erfolg von Betrieben fördern.	x	
e	Die Anbauflächen des ökologischen Landbaus sind gesunken, da sich diese Form des Landbaus nicht rentiert.		x

j) Ich kann an einem Beispiel die Rolle der WTO im globalen Wettbewerb der Landwirtschaftsprodukte beschreiben.

5 Erläutere die Rolle der WTO für die Entwicklung der Zuckerrübenanbaufläche in der EU seit 2005.

(/ 3 P.)



Nachdem andere Zucker produzierende Länder
vor der WTO geklagt hatten, musste die
EU sich dem Druck der Welthandelsorganisation
beugen und sowohl die hohen Garantiepreise für
Zuckerrüben senken, als auch die Abschottung

des EU-Marktes lockern. Aufgrund der gesunkenen und sinkenden Garantiepreise für

Zuckerrüben sinkt der zuvor hohe Gewinn für dieses Produkt stetig. Der Anbau von

Name: _____

Klasse: _____

Datum: _____

Zuckerrüben lohnte sich in vielen Gebieten / für viele Landwirte nicht mehr. Sie bauten daher andere Kulturpflanzen stärker an.

4. Urteilskompetenz

a) Ich kann die Senkung der Zuckerrübenpreise aus der Sicht verschiedener Interessengruppen beurteilen.

6 Nimm Stellung zum Abbau der Garantiepreise für Zucker.

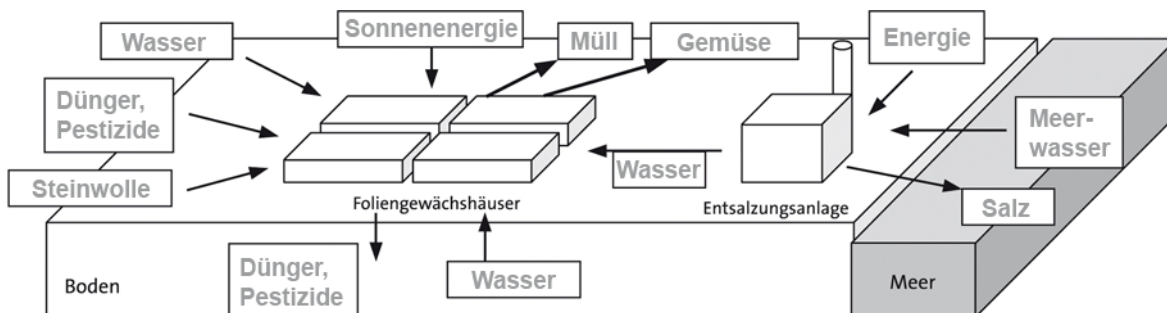
(/5 P.)

Für Landwirte die sich bisher stark auf die Rübenproduktion konzentriert hatten, wird die Entwicklung mit deutlichen Einkommenseinbußen (1 P.) schwierig werden. Da er nun mit dem Zuckerrohrzucker aus Ländern wie Brasilien konkurrieren muss, wird er sicherlich einige Weltmarktanteile verlieren (1 P.). Der größere Gewinn für die Zuckerwirtschaft in Brasilien wird sich aber vermutlich nur ganz geringfügig auf den Verdienst und die Arbeitsbedingungen der Zuckerrohrschneider auswirken (1 P.). Verdienen werden vor allem die Zuckerbarone: (1 P.) Der geringere Verkaufserlös könnte sich aber auch in Europa negativ auf Produktionsstandards im Bereich Umweltschutz und Arbeitsbedingungen auswirken. Es wäre wünschenswert, dass der fairere Handel nicht nur zu einer Konkurrenz führt bei der der günstigsten Preis im Mittelpunkt steht ohne Produktionsbedingungen in den Bereichen Gesellschaft und Umwelt zu beachten. (1 P.)

c) Ich kann begründet zur Nachhaltigkeit des Tomatenanbaus in Almeria Stellung nehmen.

7 Trage Input und Output des Südspanischen Intensivanbaus von Gemüse in die Grafik ein.

(/6,5 P.)
13 x 0,5P



Gesamtpunktzahl: (/28 P.)

Zuordnung zu den Kategorien des Selbsteinschätzungsbogens

Punkte	0–15	16–19	20–24	25–28
Einschätzung	stimmt nicht	stimmt teilweise	stimmt überwiegend	stimmt

Name:

Klasse:

Datum: