







Optische Täuschungen

1	 <p style="text-align: right;">gemeinfrei</p>	2	 <p style="text-align: center;">Wikipedia CC-BY-SA-3.0 (Tobias R., Metoc)</p>
3	 <p style="text-align: right;">gemeinfrei</p>	4	 <p style="text-align: right;">gemeinfrei</p>
5	 <p style="text-align: center;">Martin Mißfeldt, www.martin-missfeldt.de</p>	6	 <p style="text-align: center;">Istock (Jonathan Woodcock) Calgary, Alberta</p>

Aufgaben

1. Beschreibe die Abbildungen und ihre Wirkung.
2. Erläutere, inwiefern jeweils eine optische Täuschung besteht und erkläre, wie sie zustande kommt.
3. Erläutere die Behauptung: „Wir sehen nicht mit den Augen, sondern mit dem Gehirn.“