
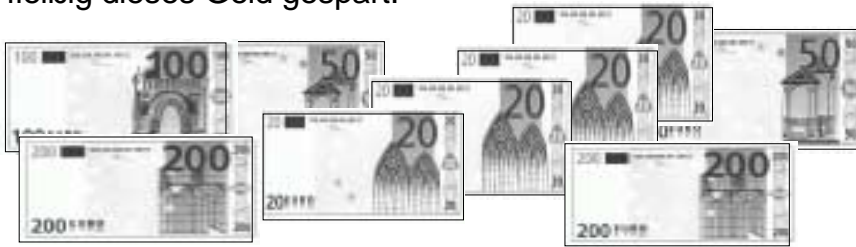




Ein großer Wunsch



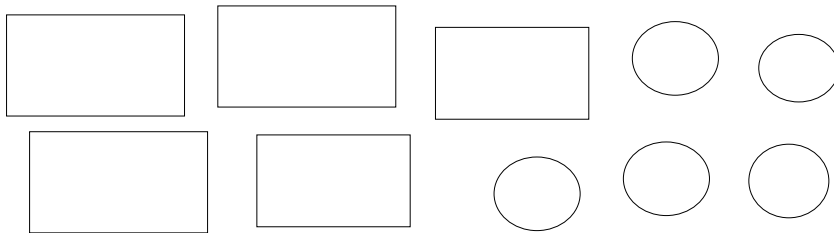
Max wünscht sich zu Weihnachten einen Computer. Weil dieser sehr teuer ist, hat die ganze Familie fleißig dieses Geld gespart.





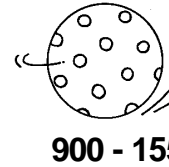

Sie haben schon _____ € gespart.
Es fehlen noch _____ €.

Der Opa will Max das restliche Geld zu Weihnachten schenken.

Welche Scheine und Münzen hält der Opa bereit?



Wer bekommt welche Geschenke?
Male mit der gleichen Farbe aus.



Achtung!
Ein Geschenk bleibt übrig!



Das vergessene Geschenk



Der Weihnachtsmann hat vergessen, das Geschenk für Lars abzugeben.

Er weiß nicht, wo Lars wohnt. Hilf ihm, das Haus zu finden.

Die Hausnummer liegt zwischen 30 und 70.






Sie ist kleiner als 60.

Sie ist eine gerade Zahl

Sie ist ein Vielfaches von 9.


Die Zehnerzahl ist ungerade.

Die Hausnummer ist durch 4 teilbar.



Lars wohnt im Haus Nummer _____.

Am 24. Dezember




Es ist jetzt _____ Uhr.

Der Weihnachtsmann will am Vormittag zu Kindern in einen Kindergarten.

Er fährt 1 Stunde und 30 Minuten.

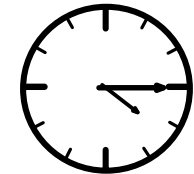
Ein Wichtel sagt: „Dann bist du _____ Uhr dort.“

Bei den Kindern ist er bis _____ Uhr.




Das sind genau _____ Stunden.

Jetzt muss er noch die Geschenke der anderen Kinder holen.



Um _____ Uhr muss er wieder hier sein.

Da hat er _____ Stunden und _____ Minuten Zeit.



_____ Uhr in der Nacht ist er mit seiner Arbeit fertig.

Nun muss er noch 1 Stunde und 30 Minuten nach Hause fahren.



Ist der Weihnachtsmann vor Mitternacht da?

Ja oder nein? Streiche die falsche Antwort durch.