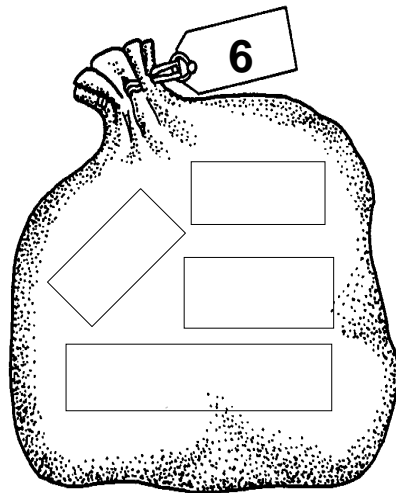
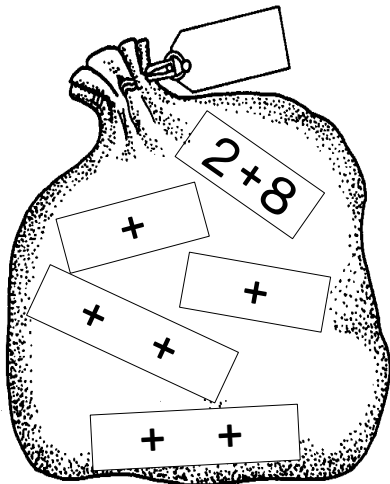
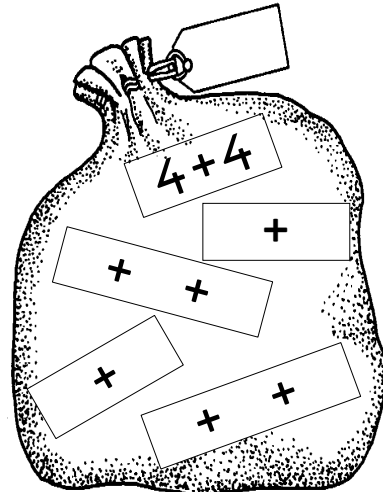
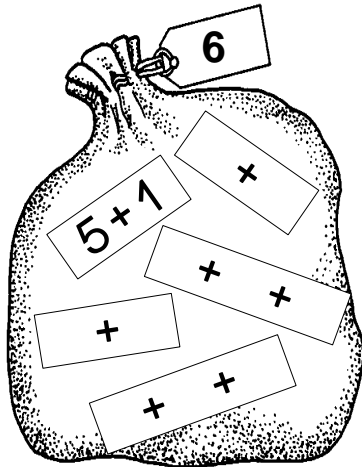


Hilf dem



die Säcke zu füllen.



Mein Weihnachtsbüchlein Klasse 1



Hilfe für den Weihnachtsmann

Male die Pakete und die richtigen Briefe gleich an.



$3 + 3$



$5 + 3$

$10 - 1$



$3 + 7$



$10 - 2$

$9 - 3$

$10 - 3$



$4 + 3$



$4 + 5$

$9 - 4$

$4 + 6$

$3 + 2$




Für mein Eichhörnchen habe ich 10 Nüsse in den Garten gelegt.


7 Nüsse sind weg.

Frage: Wie viele Nüsse sind noch da?


| | | | | | | | | | | |
|--|--|--|--|--|--|--|--|--|--|--|
| | | | | | | | | | | |
| | | | | | | | | | | |

Es sind noch _____ Nüsse da.



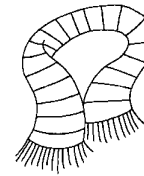


| | | |
|---------|-----|---|
| $> = <$ | | |
| 7 | | 5 |
| 3 | | 3 |
| 0 | | 6 |
| 9 | $>$ | |
| | $<$ | |

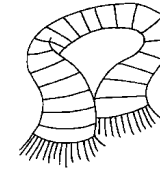


| | | | |
|-------|---|--|---|
| 4 7 3 | | | |
| 3 | + | | = |
| | + | | = |
| 7 | - | | = |
| | - | | = |

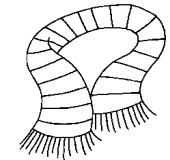
Lustige Schneemänner



$2+3$



$3+3$



$5+2$

Töpfe: 10 = rot


9 = blau

8 = grün

Schals: 5 = rot

6 = blau

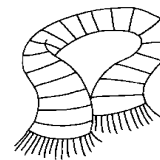
7 = grün



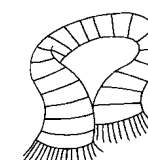
| | | |
|---|---|---|
| 8 | | |
| 6 | + | |
| | + | 3 |
| 4 | + | |
| | + | 0 |
| 1 | + | |

| | | |
|---|---|--|
| 3 | | |
| 6 | - | |
| 9 | - | |
| 7 | - | |
| 5 | - | |
| 8 | - | |

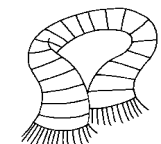
| | | |
|----|---|----|
| 10 | | |
| 5 | + | |
| | + | 4 |
| 3 | + | |
| | + | 1 |
| 8 | + | |
| | + | 10 |



$9-4$



$10-3$



$8-2$


Marie wünscht sich einen



10 €



In ihrem



sind



_____ €

Der Opa schenkt ihr




Nun hat Marie _____ €.

Es fehlen noch _____ €.



Die Oma gibt Marie diese



Märchenstunde



Die Oma liest Märchen vor.



Sie hat schon 3 Märchen gelesen.

Das 1. Märchen hatte 2 Seiten.

Das 2. Märchen hatte 4 Seiten.

Das 3. Märchen hatte 3 Seiten.

Auf welcher Seite liegt das Lesezeichen?

Reche : _____



Seite _____

In der Schneemannschule




Der Schneemann übt mit den Schneekindern.

| | | | | | |
|---|---|---|---|--|---|
| 5 | + | 5 | = | | |
| 7 | + | 2 | = | | |
| 4 | + | 4 | = | | |
| 3 | + | 6 | = | | |
| | | | | | |
| 4 | + | | = | | 8 |
| 6 | + | | = | | 9 |
| 4 | + | | = | | 6 |
| 3 | + | | = | | 5 |
| 4 | + | | = | | 4 |

| | | | | | |
|---|---|---|---|---|---|
| | | | | | |
| | 6 | - | 5 | = | |
| | 8 | - | 3 | = | |
| | 7 | - | 4 | = | |
| | 5 | - | 3 | = | |
| | | | | | |
| 1 | 0 | - | | = | 4 |
| | 8 | - | | = | 6 |
| | 6 | - | | = | 2 |
| | 9 | - | | = | 5 |
| | 5 | - | | = | 5 |

Weihnachtsbäckerei



Die Oma hat 8 Kekse gebacken.

Lisa isst 4 Kekse auf.

Dann kommt Toni und holt sich 3 Kekse.

Oma fragt :

„Wie viele Kekse sind denn noch da?“


Rechne : $\underline{\quad} - \underline{\quad} - \underline{\quad} = \underline{\quad}$

Es ist noch $\underline{\quad}$ Keks da.



Geschenke einpacken

Heute packt der Weihnachtsmann Puppen und Autos ein.



Zuerst packt er 5 große Puppen und 3 kleine Puppen ein.

Puppen : _____

Er packt _____ Puppen ein.




Dann packt er 4 große Autos und 5 kleine Autos ein.

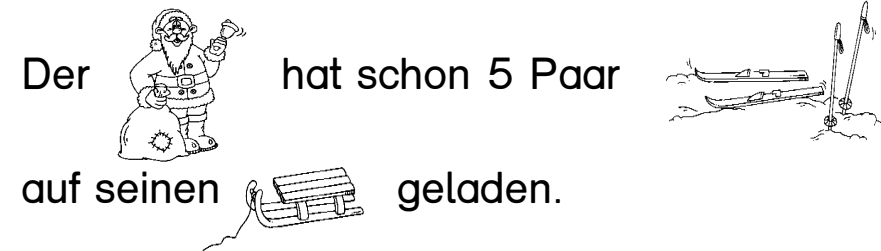
Autos : _____

Er packt _____ Autos ein.

Wir warten auf Schnee.



10 Kinder haben sich Skier gewünscht.

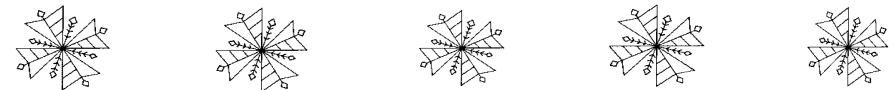


Der hat schon 5 Paar auf seinen geladen.

Wie viele Paar Skier fehlen noch?

Rechne : _____

Es fehlen noch _____ Paar



Male den Weihnachtsmann richtig an.



9 = rot

8 = braun

7 = gelb

6 = schwarz

5 = weiß

© Ernst Klett Verlag GmbH, Stuttgart 2009.
Von dieser Druckvorlage ist die Vervielfältigung für den eigenen Unterrichtsgebrauch gestattet.
Für Veränderung durch Dritte übernimmt der Verlag keine Verantwortung. Autor: Monika Tzschoppe

Male den Baum bunt an.



Auf dem Baum sind ____ Kugeln und ____ Sterne.

Rechne: ____ + ____ = ____

Es sind ____ Teile auf dem Baum.

Male alles bunt aus.

10 = rot
 9 = blau
 8 = gelb
 7 = braun
 6 = orange
 5 = grün

Erfinde eine Geschichte und rechne.




Der

hat



und



| | | | | | | | | | |
|--|--|--|--|--|--|--|--|--|--|
| | | | | | | | | | |
| | | | | | | | | | |