

Standpunkt

Online-Link
zum Standpunkt
742281-0461

Ich kann...	Wo stehe ich?				Lerntipp!
	gut	weniger gut	etwas	nicht mehr	
1 Zahlen runden.	<input type="checkbox"/>	<input type="checkbox"/>	<input type="checkbox"/>	<input type="checkbox"/>	→ S. 190
2 Zahlen quadrieren.	<input type="checkbox"/>	<input type="checkbox"/>	<input type="checkbox"/>	<input type="checkbox"/>	→ S. 32
3 Quadratwurzeln berechnen.	<input type="checkbox"/>	<input type="checkbox"/>	<input type="checkbox"/>	<input type="checkbox"/>	→ S. 36 bis 39
4 Maßeinheiten umwandeln.	<input type="checkbox"/>	<input type="checkbox"/>	<input type="checkbox"/>	<input type="checkbox"/>	→ S. 182; 183
5 Dreiecke unterscheiden.	<input type="checkbox"/>	<input type="checkbox"/>	<input type="checkbox"/>	<input type="checkbox"/>	→ S. 185
6 Vierecke unterscheiden.	<input type="checkbox"/>	<input type="checkbox"/>	<input type="checkbox"/>	<input type="checkbox"/>	→ S. 184
7 den Umfang und Flächeninhalt von Figuren berechnen.	<input type="checkbox"/>	<input type="checkbox"/>	<input type="checkbox"/>	<input type="checkbox"/>	→ S. 184
8 Körper erkennen.	<input type="checkbox"/>	<input type="checkbox"/>	<input type="checkbox"/>	<input type="checkbox"/>	→ S. 185

Überprüfe deine Einschätzung.

1 Runde auf die angegebene Stelle.

Zahl	Einer	Zehntel	Hundertstel
3,041	<input type="checkbox"/>	<input type="checkbox"/>	<input type="checkbox"/>
10,009	<input type="checkbox"/>	<input type="checkbox"/>	<input type="checkbox"/>
0,825	<input type="checkbox"/>	<input type="checkbox"/>	<input type="checkbox"/>

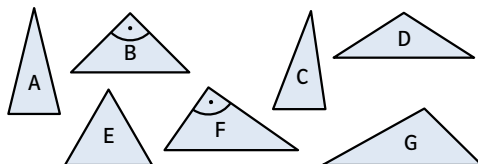
2 a) 14^2 b) 29^2 c) $1,9^2$
d) $4,7^2$ e) $82,3^2$ f) 0^2

3 a) $\sqrt{49}$ b) $\sqrt{169}$ c) $\sqrt{324}$
d) $\sqrt{2,25}$ e) $\sqrt{463}$ f) $\sqrt{27,3}$

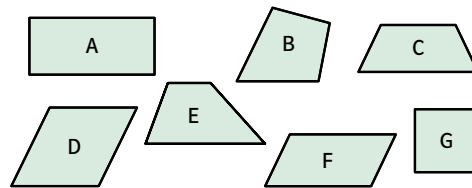
4 Wandle um.

a) 3040 mm (cm) b) 4,04 dm (cm)
c) 2,7 m (cm) d) 3 cm^2 (mm^2)
e) 4630 cm^2 (m^2) f) $5,1 \text{ m}^2$ (cm^2)

5 Beschreibe das Dreieck durch Adjektive für die Seiten und für die Winkel. Benenne das Dreieck.



6 Gib den Vierecken Namen und nenne ein oder zwei Eigenschaften, an denen du sie erkennst.

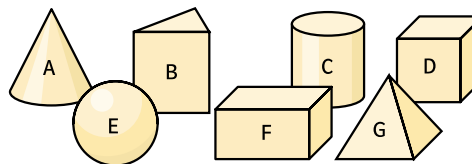


7 Berechne Umfang und Flächeninhalt.

a) Quadrat mit $a = 3,2 \text{ cm}$
b) Rechteck mit $a = 6,5 \text{ cm}$; $b = 1,8 \text{ cm}$

c) d)

8 Nenne die Namen der abgebildeten Körper und nenne ein bis zwei Eigenschaften, an denen du sie erkennst.



→ Die Lösungen findest du auf Seite 199.